

Tracés à la règle

Lecture de l'heure

Carrés, rectangles

A

1

1 p. 43

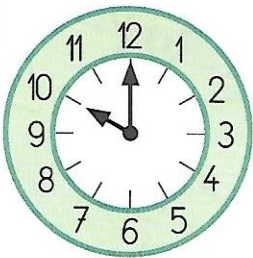
2 p. 43

3 p. 43

Je prépare le bilan

À L'ORAL

A



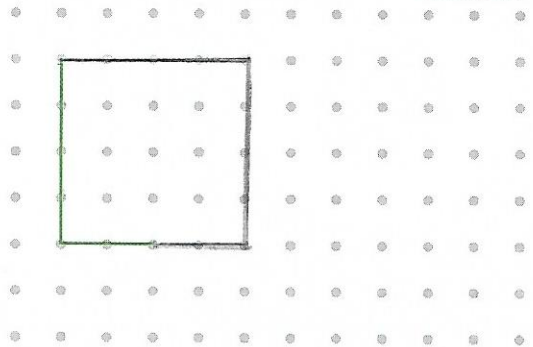
10 heures



Quelle heure est-il ?

B

Zoé a commencé à tracer un carré.



Je fais le bilan


Date : _____

1

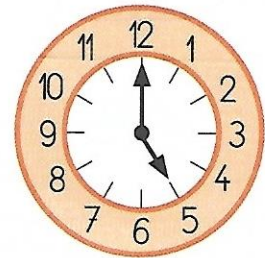
Complète.



Il est 2 heures.....




Il est 8 heures.....



Il est 5 heures.....


2

Termine ce dessin pour obtenir un carré.



3

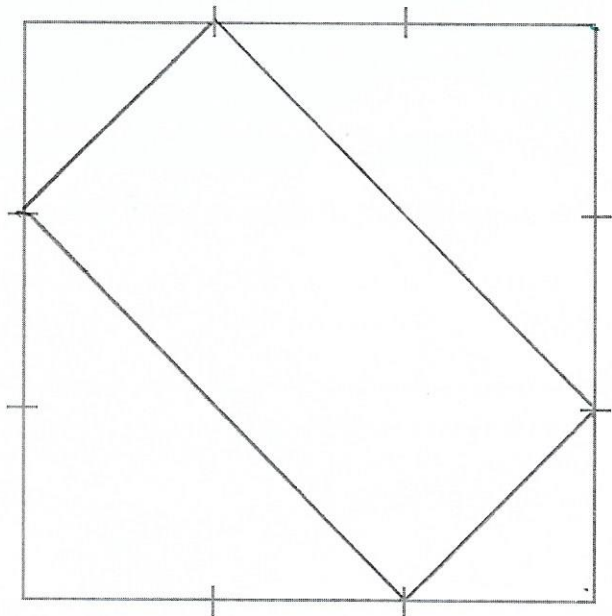
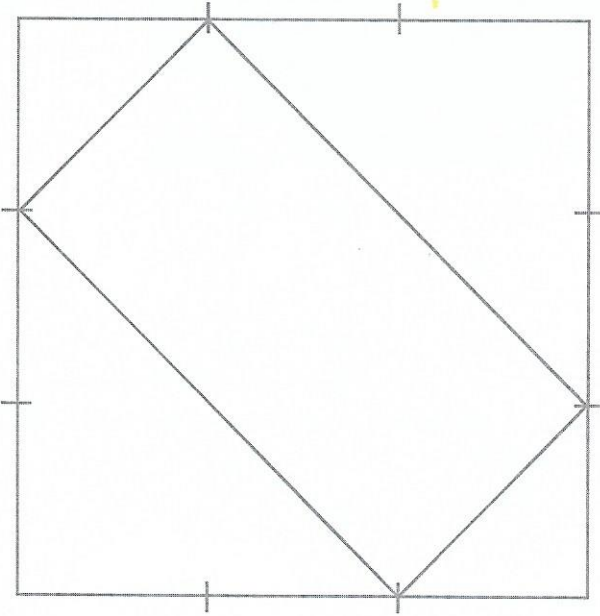
Termine ce dessin pour obtenir un rectangle. Il ne doit pas être un carré.




Je consolide mes connaissances

[À LA RÈGLE]

1 Trace avec la règle les traits qui manquent pour obtenir le même dessin que le modèle.



2 Complète.



Il est 7 heures.....



Il est 1 heure.....



Il est 8 h et demie.....

3 Trace un carré rouge, un rectangle bleu, un triangle vert.

