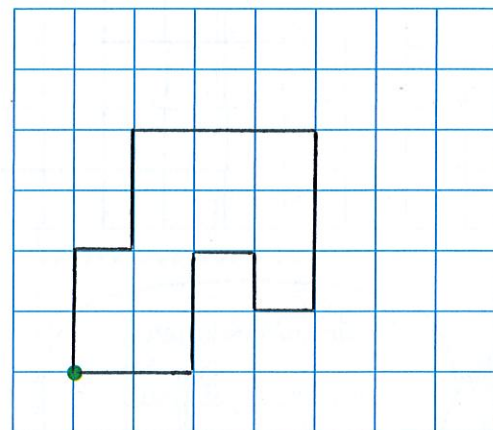
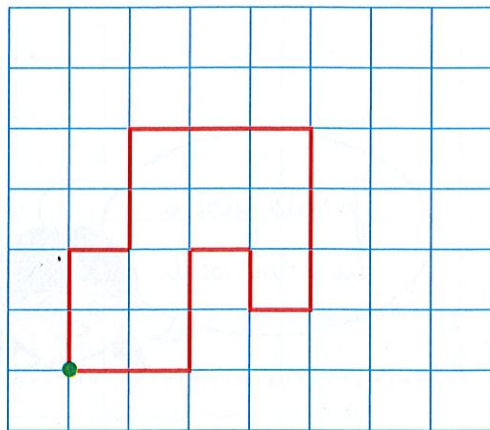
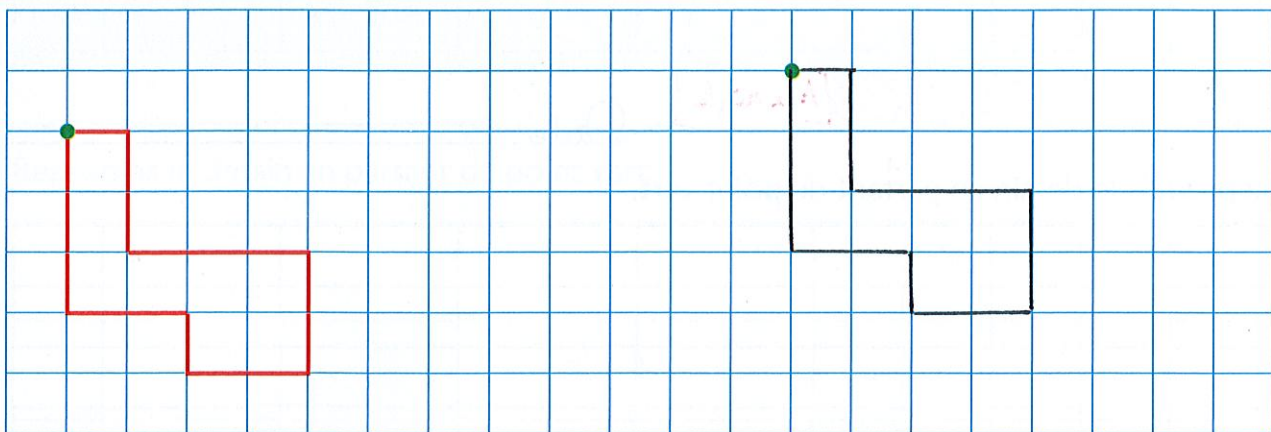


Je consolide mes connaissances

1 Reproduis le dessin en partant du point vert. [A la règle]

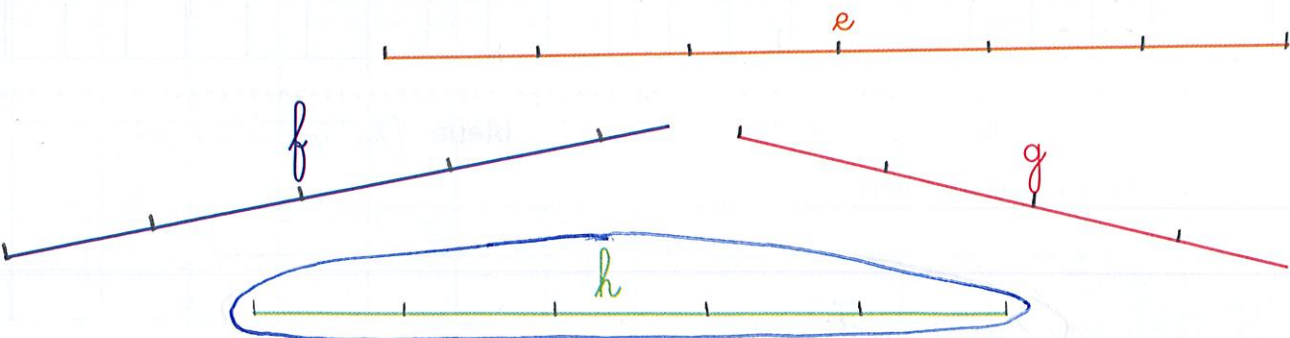


2 Reproduis le dessin en partant du point vert.



Pour les exercices 3 et 4, utilise la règle à mesurer bleue.

3 Entoure le trait qui mesure 5 unités.



4 Continue ce trait pour qu'il mesure 6 unités. [à la règle]

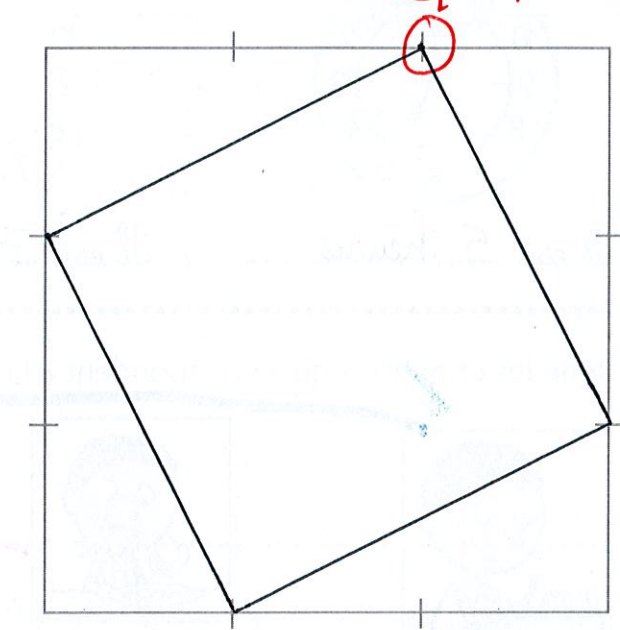
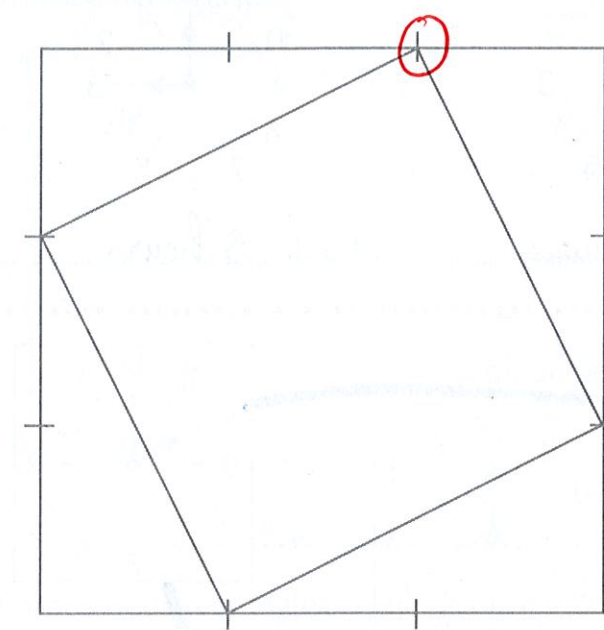


Date : \_\_\_\_\_

GUIDE ► SÉANCE 7	ACTIVITÉS	INDIVIDUEL	
		COLLECTIF	INDIVIDUEL
Calcul mental	Décompositions additives d'un nombre	✓	
Réviser	Tracés à la règle		1
Apprendre	Lecture de l'heure	✓	2

Tracés à la règle

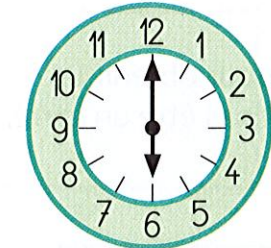
1 Trace avec la règle les traits qui manquent pour obtenir le même dessin que le modèle.



Lecture de l'heure



2 Complète.



Il est 6 heures.



Il est 11 heures.



Il est 8 heures.



Il est 4 heures.



Il est 2 heures.



Il est 9 heures.