

	ACTIVITÉS	COLLECTIF	INDIVIDUEL
Nombres dictés	Jusqu'à 99	✓	1
Réviser	Décompositions du nombre 50		2
Apprendre	Décompositions de nombres	✓	3 4

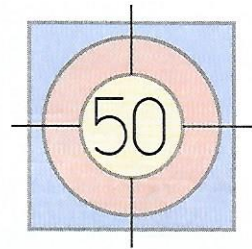
Date : _____

Nombres dictés

- 1 a 47 b 65 c 75 d 83 e 90 f 93

Décompositions de 50

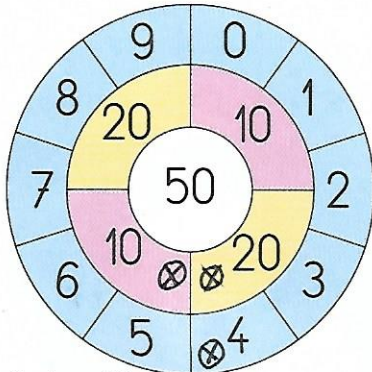
2 Colorie les cartes que chacun doit choisir pour atteindre la cible.



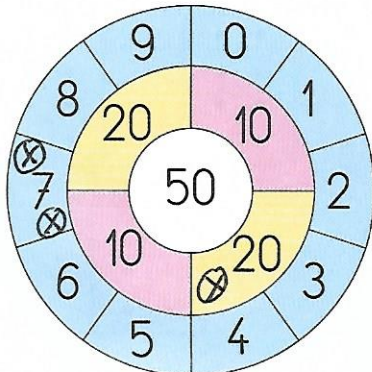
Décompositions de nombres

[Propositions de réponses] → écrire les calculs.

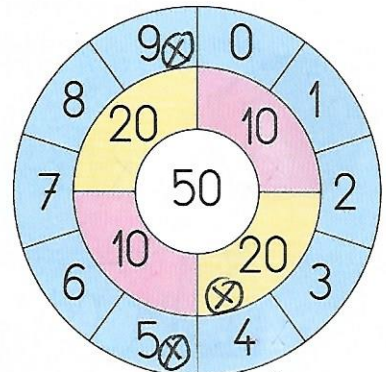
3 Zoé lance 3 fléchettes. Elle marque 34 points. Indique par des croix les places de ses fléchettes. Trouve 3 solutions différentes.



$20 + 10 + 4$



$20 + 7 + 7$



$20 + 9 + 5$ (ou $20 + 8 + 6$)...

4 Arthur lance 4 fléchettes. Il marque 63 points. Écris 6 sommes qui permettent d'obtenir 63 points.

- $50 + 10 + 2 + 1$
- $20 + 20 + 20 + 3$
- $50 + 6 + 4 + 3$
- $50 + 8 + 4 + 1$
- $50 + 10 + 3 + 0$
- $50 + 7 + 3 + 3$
- $50 + 5 + 5 + 3$
- $50 + 6 + 6 + 1$
- $50 + 8 + 5 + 0$
- $50 + 9 + 4 + 0$

