

|               | ACTIVITÉS                          | COLLECTIF | INDIVIDUEL |
|---------------|------------------------------------|-----------|------------|
| Calcul mental | Problèmes dictés : complément à 10 | ✓         | 1          |
| Réviser       | Problèmes écrits : compléments     |           | 2 3        |
| Apprendre     | Addition posée                     | ✓         | 4 5        |

Date : \_\_\_\_\_

**Problèmes dictés** Combien de craies a-t-on utilisées ?



$$10 - 6 = 4$$

ou

$$6 + 4 = 10$$



$$10 - 3 = 7$$

ou

$$3 + 7 = 10$$

**Problèmes écrits**

2 Dans cette boîte, il y avait une douzaine de craies.  
→ Écris combien la maitresse en a déjà utilisé.

La maitresse a utilisé 4 craies.



$$12 - 8 = 4$$

ou

$$8 + 4 = 12$$

3 Sur une boîte de craies, Arthur lit « 15 craies ».  
Il ouvre la boîte et il compte les craies.  
Il n'y a plus que 5 craies dans la boîte.

→ Écris combien de craies ont déjà été utilisées.

10 craies ont déjà été utilisées.

$$5 + 10 = 15$$

ou


$$15 - 5 = 10$$

Schéma :


|            |   |
|------------|---|
| 15 en tout |   |
| 5          | ? |

**Calcul de sommes**


4 Voici les boutons qu'Arthur, Zoé et Gribouille doivent commander pour réparer leurs ziglotrons.  
Écris le nombre total de boutons que chacun doit commander.

|      |   |
|------|---|
| 34   |  |
| + 23 |   |
| 57   |   |

Nombre total de boutons : 57

|      |   |
|------|---|
| 25   |  |
| + 35 |   |
| 60   |   |

Nombre total de boutons : 60

|     |  |
|-----|--|
| 28  |  |
| + 5 |  |
| 33  |  |

Nombre total de boutons : 33

5 Calcule avec la méthode de ton choix en posant les additions

|         |
|---------|
| 40 + 17 |
| 40      |
| + 17    |
| 57      |

|         |
|---------|
| 29 + 21 |
| 29      |
| + 21    |
| 50      |

|         |
|---------|
| 32 + 29 |
| 32      |
| + 29    |
| 61      |