

ACTIVITÉS	COLLECTIF	INDIVIDUEL
Calcul mental	Répertoire additif ✓	
Réviser	Décompositions du nombre 20	
Apprendre	Addition posée ✓	

Date : _____

Calculs dictés

1




a	7	b	9	c	5	d	6	e	8	f	4
	14-7		14-5		14-9		5 → 11		3 → 11		7 → 11

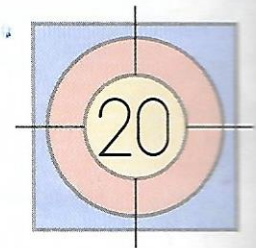
« ... moins ... »
« ... pour aller à ... »

Décompositions de 20

[Plusieurs solutions possibles]


2 Colorie les cartes que chacun doit choisir pour atteindre la cible.

	4	6	5	9	7
	8	3	4	3	9
	1	5	5	9	6




Calcul de sommes


3 Voici les boutons qu'Arthur, Zoé et Gribouille doivent commander pour réparer leurs ziglotrons. Écris le nombre total de boutons que chacun doit commander.

1 3	
+ 1 6	
2 9	

Nombre total de boutons : 29

2 6	
+ 3 0	
5 6	

Nombre total de boutons : 56

5 3	
+ 5 5	
10 8	

Nombre total de boutons : 108

4 Calcule avec la méthode de ton choix. en posant les additions

25 + 23
25 + 23 ----- 48

40 + 27
40 + 27 ----- 67

32 + 6
32 + 6 ----- 38