

	ACTIVITÉS	COLLECTIF	INDIVIDUEL
Calcul mental	Répertoire additif	✓	1
Réviser	Décompositions du nombre 15		2
Apprendre	Complément et différence	✓	3 à 5

Date : _____




Calculs dictés

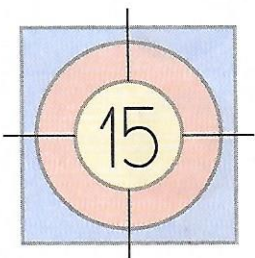
1

a	14 7+7	b	12 7+5	c	15 7+8	d	18 9+9	e	15 9+6	f	17 9+8
---	-----------	---	-----------	---	-----------	---	-----------	---	-----------	---	-----------

Décompositions de 15

2 Colorie les cartes que chacun doit choisir pour atteindre la cible. [Plusieurs solutions possible]



	4	2	5	9	6
	8	3	4	3	9
	1	5	5	9	4



Problèmes [Il faut écrire tes calculs.]

3 Arthur a 25 photos de Gribouille. Il les a mises dans deux boîtes. Écris combien il y a de photos dans la boîte rouge.

$21 + 4 = 25$ ou $25 - 21 = 4$

4 Zoé a aussi 25 photos de Gribouille. Elle les a mises dans deux boîtes. Écris combien il y a de photos dans la boîte rouge.

$6 + 19 = 25$ ou $25 - 6 = 19$



5 Zoé a 30 petites voitures. 7 petites voitures sont vertes. Toutes les autres sont jaunes. Combien Zoé a-t-elle de voitures jaunes?

Zoé a 23 voitures jaunes. $30 - 7 = 23$ ou $7 + 23 = 30$

