

La coiffeuse pressée s'occupe de deux clients à la fois!



La coiffeuse pressée s'occupe de deux clientes à la fois!

Le courageux dompteur dresse les lions, féroces et redoutables.



La courageuse dompteuse dresse les lions féroces et redoutables.

Je reconnais les classes de mots

Écris une phrase en utilisant les mots de toutes les étiquettes.
Ensuite, écris **D** sous les déterminants, **N** sous les noms,
Adj sous les adjectifs et **V** sous les verbes.

date : 09/06



Mon gamelle. petit a renversé sa chien

Mon petit chien a renversé sa gamelle.
D Adj N V D N

date : 09/06

étourdie a La fillette ses lunettes. oublié

La fillette étourdie a oublié ses lunettes.
D N Adj V D N



date :



vieux balais les Les mortes. jardinier feuilles

Complète chaque phrase avec un ou plusieurs mots de la même famille que le mot en bleu. Attention, il peut y avoir des fausses familles ! Dans ce cas, écris après le point final: F.F.

date: 9/06

- Maman avait **emballé** le cadeau, et moi je l'ai **déballé**.
- En faisant des courses, il faut **penser** à ne pas trop **dépensez**. F.F.
- Un taille-crayons, c'est très **utile**, mais un taille-stylos...
C'est complètement **inutile** !
- J'avais **accroché** un beau poster au mur,
mais il s'est **décroché**.
Il faudra que je le **raccroche**.



date:

- Il y a des enfants **prudents** et d'autres qui sont
- Les poules savent **pondre** des œufs, mais elles ne savent
pas
aux questions!
- J'avais **commencé** à...


83 Vraisemblance d'un résultat

Découvrons ensemble

Vadim calcule $374 + 218$ avec sa calculatrice.



Voilà le résultat !



Tu t'es trompé en tapant sur les touches de ta calculatrice.



Es-tu du même avis que Théo ? Oui Non

Le résultat affiché est-il vraisemblable ? Oui Non

Utilise ta calculatrice pour trouver le résultat.

Léa défie ses amies. Sans poser l'opération, elles doivent écrire sur leur ardoise un nombre le plus proche possible du résultat de l'addition $124 + 285$.



Mélissa

300

Louise

400

Marion

800

Le résultat de Marion est-il vraisemblable ? Oui Non

Arrondis chaque nombre de l'addition à la centaine la plus proche. $100 + 300$

Donne une valeur approchée du résultat : 400

Qui a gagné ? $Louise$

Je m'entraîne

Parmi les résultats proposés, un seul est exact. Entoure-le.

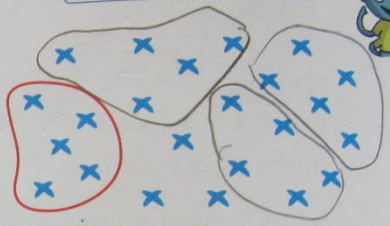
a $250 + 370 \rightarrow 920$; **620** ; 320

b $482 + 114 \rightarrow 596$; 396 ; 1 096

Découvrons ensemble

Léa veut ranger 23 images dans des pochettes de 5 images. Combien de pochettes remplira-t-elle ? Combien restera-t-il d'images ?

Un paquet de 5 croix représente une pochette de 5 images.



Léa a représenté les images en dessinant 23 croix. Fais des paquets de 5 croix tant que cela est possible.

Combien de paquets as-tu faits ? 4 paquets

Combien de croix sont à l'extérieur des paquets ? 3 croix

Complète.

Léa remplira 4 pochettes de 5 images. Il restera 3 images.


23 : 5 = 4 reste 3

J'ai divisé 23 par 5.



Je m'entraîne

Alex range sa collection de 32 voitures dans des boîtes de 6. Combien de boîtes Alex peut-il remplir ? Combien restera-t-il de voitures ?



Représente les voitures par des croix, puis fais des paquets de 6 croix.

Combien de paquets as-tu faits ? 5 paquets

Combien de croix sont à l'extérieur des paquets ? 2 croix

Complète.

Alex aura 5 boîtes pleines. Il restera 2 voitures.

32 : 6 = 5 reste 2

Tu as divisé 32 par 6.



2 La fermière range 30 m...