

• J'espère que tu

date :

2

- L'année dernière, Romane avait eu du mal à nager sans bouée.
- Il était une fois une princesse et un prince : ils étaient amoureux.
- Hier soir, j'ai eu de la fièvre mais, ce matin, je n'en ai plus du tout.
- Dans un an, Maxime sera étudiant.

78

Je continue dans un texte

Trouve de qui ou de quoi on parle dans le texte. Puis colorie chaque étiquette en respectant les couleurs indiquées.

date : 5/6

4

Les hirondelles installent leur nid au plafond des étables ou des écuries. Il est construit par les deux parents avec des brindilles et de la boue. Quand ils ont fini de garnir le nid de plumes et de duvet, la femelle pond entre trois et six œufs. Deux semaines plus tard, c'est la naissance des oisillons. Le père et la mère les nourrissent avec des insectes qu'ils attrapent en vol. Ils font plusieurs centaines de voyages par jour pour alimenter les petits affamés ! Les jeunes restent au nid une vingtaine de jours, puis les adultes cessent de les nourrir afin de les pousser à sortir du nid et à apprendre à voler.



trouve
et coch
dans l

Papa
nou
À ce
du b
Que
Qua

Cha
Il a
Ma

5

Les lions vivent en Afrique. Le mâle adulte, que l'on reconnaît à sa crinière, pèse plus de 200 kg, et la femelle environ 150 kg. C'est pendant que le lion se repose qui pèsent

date : ...

ve
Il a

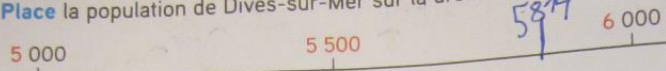
Découvrons ensemble

Dives-sur-Mer a une population de 5 814 habitants.

Encadre ce nombre entre deux milliers qui se suivent.

$5\ 000 < 5\ 814 < 6\ 000$

Place la population de Dives-sur-Mer sur la droite numérique ci-dessous.

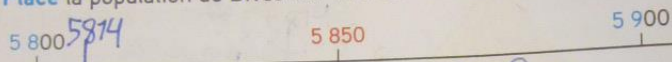


Arrondis 5 814 au millier le plus proche. $6\ 000$

Encadre maintenant 5 814 entre deux centaines qui se suivent.


$5\ 800 < 5\ 814 < 5\ 900$

Place la population de Dives-sur-Mer sur la droite numérique ci-dessous.



Arrondis 5 814 à la centaine la plus proche. $5\ 800$

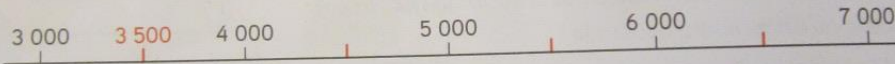
Aide-toi du schéma pour arrondir les nombres.



Dives-sur-Mer

Je m'entraîne

1 Arrondis les nombres suivants au millier le plus proche en t'aidant du schéma ci-dessous.



a $3\ 700 \rightarrow 4\ 000$; $3\ 200 \rightarrow 3\ 000$; b $5\ 345 \rightarrow 5\ 000$; $6\ 789 \rightarrow 7\ 000$
 $4\ 300 \rightarrow 4\ 000$; $5\ 900 \rightarrow 6\ 000$; $6\ 805 \rightarrow 7\ 000$; $4\ 189 \rightarrow 4\ 000$

2 Voici les populations de quatre villes françaises :

Carnac

4 443 habitants

Plouay

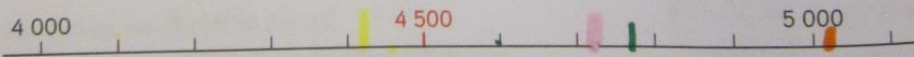
4 764 habitants

Quiberon

5 074 habitants

Arradon

4 719 habitants



Place approximativement ces populations sur la droite numérique en dessinant un point de la couleur du cadre de la ville.

Arrondis chaque population à la centaine d'habitants la plus proche.

Carnac : $4\ 400$; Plouay : $4\ 800$; Quiberon : $5\ 100$; Arradon : $4\ 700$

Compétence : Arrondir un nombre au millier le plus proche ou à la centaine la plus proche.

Calcul mental : Ajouter 1000. L'enseignant écrit $3\ 450 + 1\ 000$; l'élève écrit 4 450.



- L'écureuil fouille dans les feuilles mortes.
- Il y a trois filles dans cette famille.
- Il ne faut pas confondre les orteils et les oreilles.
- L'anguille est un poisson sans écaille.
- Le chevreuil surveille les alentours.