

GUIDE ► BILAN	PRÉPARATION	BILAN	CONSOLIDATION
Répertoire additif jusqu'à 18		1	1 p. 110
Lecture des nombres jusqu'à 99	A	2	2 p. 110
Complément et différence	B	3	3 p. 110
Addition posée	C	4	4 p. 110
Comparaison de sommes	D	5 6	5 p. 110


Je prépare le bilan À L'ORAL

A

83 → quatre-vingt-trois → 80 + 3

93 → quatre-vingt-treize → 80 + 13 → 90 + 3

Quand j'entends « quatre-vingts », je sais que le nombre a 8 ou 9 pour chiffre des dizaines.



B


6

?

J'ai mis 25 photos dans ces 2 boîtes.

25 - 6 = 19

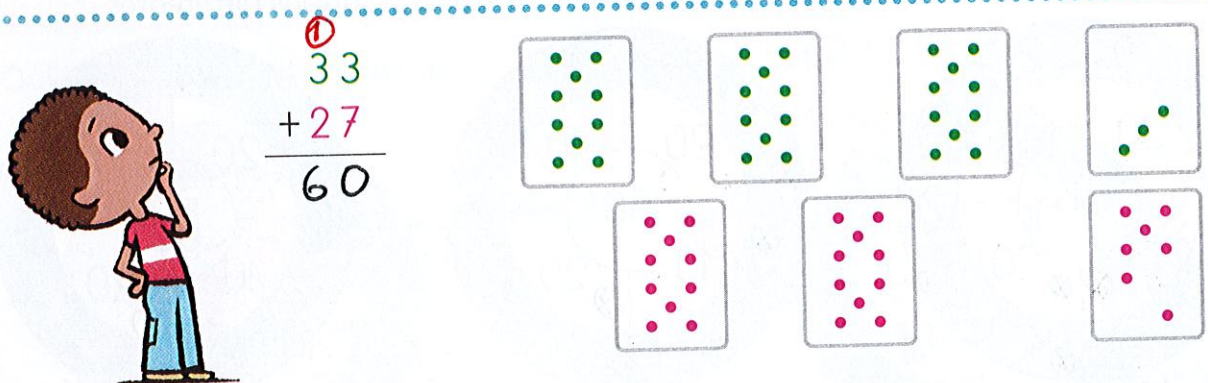
ou 6 + 19 = 25



C

33
+ 27

60




D

50 + 20 + 10 + 7 > 20 + 7 + 10 + 20

87 (57)

Qui a marqué le plus de points? C'est Arthur.



Date : _____

Je fais le bilan

1 Écris le résultat de chaque calcul dicté.


a 10 / 7+3 b 16 / 8+8 c 14 / 9+5 d 13 / 7+6 e 15 / 6+9 f 17 / 9+8

2 Écris les nombres dictés.

a 59 b 69 c 89 d 99 e 75 f 95

3 Dans cet album, il y a 20 photos: des photos de Zoé et des photos de Gribouille. Il y a 6 photos de Zoé. Écris combien il y a de photos de Gribouille dans l'album.

Il y a 14 photos de Gribouille dans l'album. 20 - 6 = 14 (ou 6 + 14 = 20)



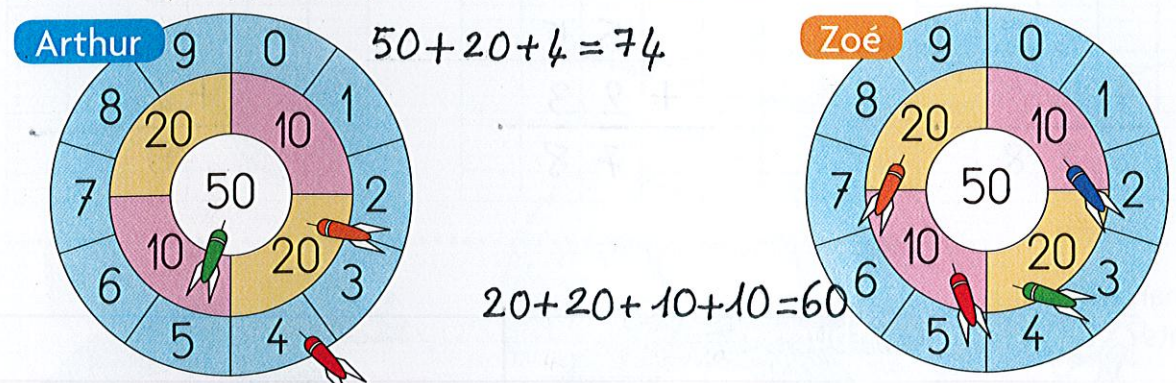
4 Calcule avec la méthode de ton choix.

35 + 53	37 + 43	58 + 27
35 + 53 --- 88	37 + 43 --- 80	58 + 27 --- 85

5 Qui a marqué le plus de points? [Écris tes calculs.]

Arthur: 50 + 20 + 4 = 74

Zoé: 20 + 20 + 10 + 10 = 60



C'est Arthur qui a marqué le plus de points.

6 Complète avec <, > ou =

20 + 20 + 7 + 5 > 20 + 10 + 10 + 8

52 > 48

50 + 8 = 20 + 20 + 10 + 8

58 = 58