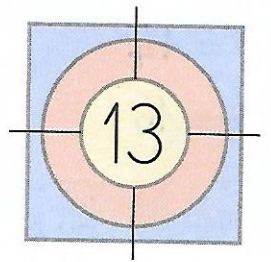
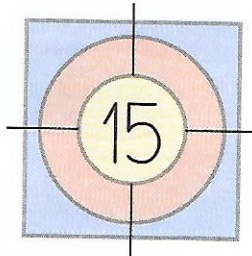



Je consolide mes connaissances

1 La solution la plus intéressante, pour le jeu, est celle qui utilise le plus de cartes.
 Colorie les cartes que chacun doit choisir pour atteindre la cible.



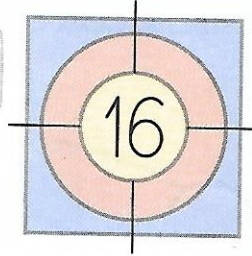

2



Écris deux sommes qui permettent d'atteindre la cible en utilisant les nombres des cartes.

$8 + 2 + 5$
 $8 + 1 + 6$

3



Écris deux sommes qui permettent d'atteindre la cible en utilisant les nombres des cartes.

$8 + 2 + 6$
 $9 + 7$

4 Relie les mots pour obtenir le nombre, comme dans l'exemple.
 Dessiner les flèches dans le bon sens.

exemple 21

dix un
 vingt et

54

cinq quarante
 cinquante quatre

41

un quarante
 quatre et

78

soixante dix
 sept huit

65

six soixante
 quinze cinq

73

soixante sept
 treize trois