

	ACTIVITÉS	COLLECTIF	INDIVIDUEL
Calcul mental	Problèmes dictés: addition itérée	✓	1
Réviser	Problèmes écrits: addition itérée		2 3
Apprendre	Sommes de deux nombres: calcul réfléchi	✓	4 5


Date: 57/05/20

Sachant que je mets :

→ 4 photos ds chaque enveloppe,  $4 + 4 + 4 = 12$

Problème dicté

1



Combien de photos y a-t-il dans la gde enveloppe?

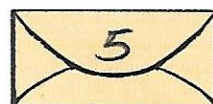

Il y a 12 photos dans la grande enveloppe.

car  $4 + 4 + 4 = 12$

Problèmes écrits

2

Dans chaque enveloppe, il y a 5 photos de Gribouille. On met toutes ces photos dans une boîte.



→ Écris combien il y a de photos dans la boîte.

Il y a 15 photos dans la boîte.

$$5 + 5 + 5 = 15$$

3

Zoé a 4 enveloppes. Chaque enveloppe contient 5 photos. → Écris combien de photos a Zoé.

Zoé a 20 photos.

$$5 + 5 + 5 + 5 = 20$$

Sommes de deux nombres

Écrire 1 chiffre par carreau et utiliser la règle.

4

Calcule. Utilise la méthode de ton choix.

23 + 45	
23	
+ 45	
<hr/>	
68	

32 + 50	
32	
+ 50	
<hr/>	
82	

5

Correction collective immédiate ARDOISE  $81 + 13 = 94$   
Calcule. Utilise la méthode de ton choix.  $18 + 13 = 31$

35 + 35	
35	
+ 35	
<hr/>	
70	

23 + 17	
23	
+ 17	
<hr/>	
40	