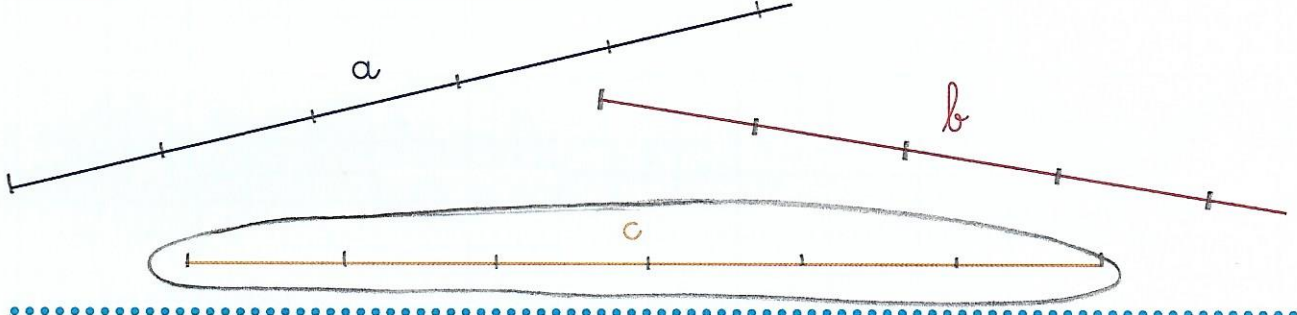



Mesurer des longueurs avec une règle

Pour les exercices 1 à 4, utilise la règle à mesurer bleue. [! 1 graduation = 2 cm]


1 Entoure le trait qui mesure 6 unités.



2 Complète ce trait pour qu'il mesure 5 unités. [à la règle]



3 Trace sur la ligne grise un trait qui a la même longueur que le trait rose. Avec une vraie règle.



4 Entoure les traits qui ont la même longueur que le trait a. [Au crayon & papier]

