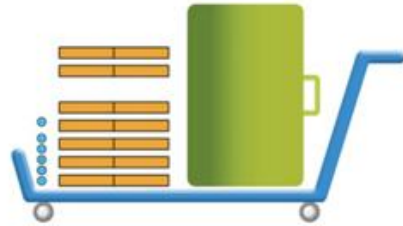
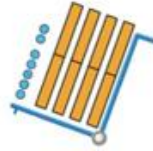
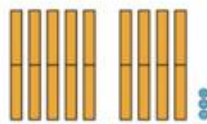


Picbille calcule $293 + 47 + 176$ « en colonnes ».



2 nouveaux groupes de cent !

	2	9	3
+		4	7
+	1	7	6
=	5	1	6



Lis chacun des nombres de l'addition en colonnes et montre-les sur le dessin des boîtes et des jetons.

Réponds :

Sur la 2^e ligne, Picbille a laissé la colonne de gauche vide.

Pourquoi ?

Il commence par calculer la somme de la colonne de droite, et trouve 16 unités.

Où a-t-il écrit 16 ?

Après avoir calculé la colonne de droite, il calcule celle du milieu, et il dit :

« 2 nouveaux groupes de cent ! »

Pourquoi ?

Termine l'addition en colonnes.

$$293 + 47 + 176 = 516$$

Pour chaque nombre, imagine les groupes de cent, ceux de dix et les unités puis calcule.

	1	1	
	2	6	3
+	1	0	7
+		4	8
=	4	1	8

	1		
	4	8	3
+	1	2	6
=	6	0	9

	2	1	
	6	3	
+	2	7	3
+		6	4
=	4	0	0

	2	2	
		4	5
+	1	5	8
+		7	2
+	2	3	6
=	5	1	1



Problème

Dans un avion, il y a 151 femmes, 183 hommes et 66 enfants.
Combien y a-t-il de passagers ?

	2	1	
	1	5	1
+	1	8	3
+		6	6
=	4	0	0

Écris en ligne l'opération qui donne le résultat et complète.

..... $151 + 183 + 66$

En tout, il y a 400 passagers



Problème

Mme et M. Xang achètent un canapé à 345 €, un fauteuil à 127 € et une table basse à 89 €.
Combien doivent-ils payer ?

	1	2	
	3	4	5
+	1	2	7
+		8	9
=	5	6	1

Écris en ligne l'opération qui donne le résultat et complète.

..... $345 + 127 + 89$

Ils doivent payer 561 €

Pose et calcule en colonnes, vérifie en lignes.

$24 \times 7 = 168$

$98 \times 2 = 196$

$24 \times 7 = (20 \times 7) + (4 \times 7)$

$24 \times 7 = 140 + 28$

$24 \times 7 = 168$

		2	
		2	4
x			7
=	1	6	8

			1
		9	8
x			2
=	1	9	6

$98 \times 2 = (90 \times 2) + (8 \times 2)$

$98 \times 2 = 180 + 16$

$98 \times 2 = 196$

2

date :

vous... rêvez
dessinez
~~assez~~
courez
écrivez

C'est une liste de :
verbes



ils... ~~souvent~~
s'amuse~~nt~~
dorment
sourient
jouent



C'est une liste de :
verbes

des... histoires
bagarres
~~reviens~~
chatons
~~regardes~~

C'est une liste de :
noms



Dans la colonne de gauche, repère les verbes à l'imparfait et leur sujet.

Dans la colonne de droite, complète les verbes à l'imparfait.

ais

ait

ions


iez

aient

7

date :

Il était une fois un petit dauphin
qui s'ennuyait dans la mer.
Tous les dauphins jouaient ensemble
dans l'eau,
mais lui, il rêvait de voir la terre.
Ses parents lui disaient
d'oublier son rêve.



Mais il s'approchait souvent
de la plage. Des enfants nageaient
avec lui, et des plongeurs le
caressaient.
Il ne pouvait pas, bien sûr,
sortir de l'eau, mais il aimait
observer la plage.

À suivre...

7

date :

- Regarde la voiture rouge. Elle va tourner à gauche, puis à droite en sortant du bois du Sanglier. Où va-t-elle arriver?
- Regarde la voiture bleue. Elle va tourner à droite, puis à gauche au carrefour suivant. Où va-t-elle arriver?
- Nous sommes au moulin, et nous voulons aller à l'usine. Trouve deux itinéraires :

▶ au camping

▶ au moulin

Itinéraire n°1: chalet / bois du Sanglier / camping ou droite / droite

Itinéraire n°2: tout droit puis à droite

Correction de la dictée :

Autrefois, quand j'étais petite, la télé n'existait pas.
Nous écrivions avec une plume.