

- Est-ce que tu joues de la guitare? → verbe

date : 29/05

montre

montrent

montres



- Tu me montres comment faire du vélo? → verbe
- Elles montrent leur dessin à la maîtresse. → verbe
- J'ai perdu ma montre à la piscine. → nom
- Tiens, ma montre s'est arrêtée! → nom
- Le guide montre le chemin aux promeneurs. → verbe
- Il y a des montres dans la vitrine de l'horlogerie. → nom

J'écris les mots en -ail, -eil, -euil, -ouil, -ille...



Lis les phrases et demande-toi si les mots en gris sont des noms féminins, des noms masculins ou des verbes conjugués. Puis écris-les en entier.

date : 29/05

1

- Tu chatouilles l'oreille de Maireille avec un brin de paille!
- Dans la rivière, les petits cailloux me gratouillent et me chatouillent les oreils!
- La corneille mange une chenille!
- Les chevreuils sautillent dans les broussailles!
- Tu travailles plus vite que Camille!



2

- Il ne faut pas confondre une corbe et

date :


$$\begin{array}{r}
 \text{c d u} \\
 204 \\
 \times 16 \\
 \hline
 1224 \text{ (2)} \\
 + 2040 \\
 \hline
 = 3264
 \end{array}$$

Convertis : $1 \text{ h} = 60 \text{ min}$
 $1 \text{ min} = 60 \text{ s}$

$1 \text{ h } 35 \text{ min} = 95 \text{ min}$
 $2 \text{ min } 20 \text{ s} = 140 \text{ s}$
 $120 \text{ min} = 2 \text{ h } 0 \text{ min}$

1) Entoure la masse qui convient.

(2)

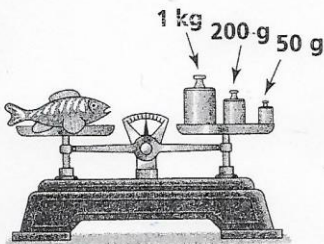


7 g ou 7 kg

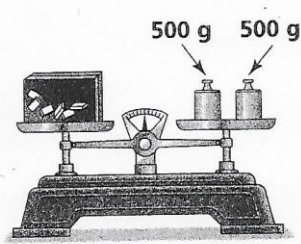


35 g ou 35 kg

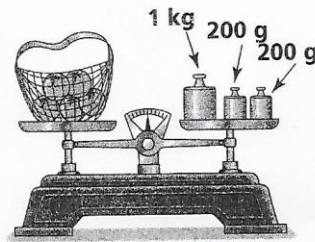
2) Écris la masse de chaque objet.



...1... kg 250 g

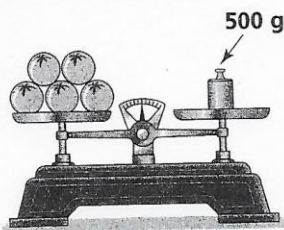


...1... kg



...1... kg 400 g

3) Combien d'oranges y a-t-il dans 1 kg ?



10 oranges pèsent 1 kg.

500g c'est la moitié d'1 kg.
 Il faudra donc le double d'oranges